



QUADERN DE MATEMÀTIQUES NADALENQUES

MULTIPLICACIONS I DIVISIONS



Raval Sant Pere, 43.
Reus (Tarragona).
Telf. 623 006 667



1. RESOL ELS SEGÜENTS PROBLEMES

La nit de Nadal, en Pare Noel ha estat repartint 45 regals a cada ciutat. Si en total son 5 ciutats diferents. Quants regals ha repartit en Pare Noel al conjunt de les ciutats?



S'apropa Nadal i s'acumula la feina. Com no hi ha temps per encarregar-se tot sol, en Pare Noel demana ajuda per embolicar els regals als elfs. En total són 98 paquets, i hi ha només 2 elfs ajudant. Quants regals embolicarà cada elf?




Avui hem preparat l'arbre de Nadal. En total hem obert 16 branques i a cada branca hem col·locat 5 llums. Quantes llums hem ficat en total?



A casa, els Reis d'Orient han portat 25 regals. Si som la meua mare, Maria, el meu pare, Pedro, la meua germana gran, Neus, la meua germana petita, Àfrica i jo. Quants regals tenim cadascú?



Com creus que t'ha sortit? Dibuixa un barret de Pare Noel a la cara corresponent.



2. RECOL CORRECTAMENT LES SEGÜENTS OPERACIONS



$$\begin{array}{r} 552 \\ \times 185 \\ \hline \end{array}$$

$$\begin{array}{r} 4128 \\ \times 129 \\ \hline \end{array}$$

$$\begin{array}{r} 224 \\ \times 312 \\ \hline \end{array}$$

$$\begin{array}{r} 933 \\ \times 647 \\ \hline \end{array}$$

$$\begin{array}{r} 2031 \\ \times 25 \\ \hline \end{array}$$

$$\begin{array}{r} 474 \\ \times 822 \\ \hline \end{array}$$



Comprova
amb la
calculadora si
els resultats
son correctes



T'atreveixes amb les divisions?



$$97 : 8 =$$

$$56 : 2 =$$

$$64 : 4 =$$

$$29 : 6 =$$

$$68 : 7 =$$





3. Encercla les operacions correctes.

$$\begin{array}{r} 27 \\ \times 37 \\ \hline \end{array}$$

999

$$\begin{array}{r} 156 \\ \times 12 \\ \hline \end{array}$$

1972

$$\begin{array}{r} 728 \\ \times 6 \\ \hline \end{array}$$

4368

$$\begin{array}{r} 625 \\ \times 7 \\ \hline \end{array}$$

4375

$$\begin{array}{r} 1050 \\ \times 75 \\ \hline \end{array}$$

750

$$\begin{array}{r} 28 \\ \times 36 \\ \hline \end{array}$$

1008





4. COMPLETA LA TAULA AMB ELS RESULTATS DE LES MULTIPLICACIONS:


	2	3	4	5	6	7	8	9	10
2									
3									
4									
5									
6									
7									
8									
9									
10									




5. DESCOBREIX ELS NOMBRES OCULTS ALS DIBUIXOS.

5 6 | 
2 8

3 0 | 6


2 0 | 
1 0

2 5 | 
5



Què és Espai Psicofamiliar?

Espai Psicofamiliar és un centre multidisciplinari de salut i educació situat a Reus (Tarragona). Treballem en equip per oferir una atenció individualitzada, integral i de qualitat, basada en una formació continuada i àmplia experiència professional.

El nostre objectiu és aconseguir l'equilibri i el benestar físic i emocional per a tots els membres de la família. Atenem a nens, adolescents, adults i persones grans desde les nostres especialitats.

Els serveis que oferim a Espai Psicofamiliar son:



Psicologia infantojuvenil · Psicologia d'adults ·
Psicologia familiar i de parella · U. Perinatal

Teràpia psicomotriu · Atenció primerenca



Neuropsicologia infantojuvenil i d'adults ·
Dificultats d'aprenentatge · Estimulació cognitiva

Logopèdia · Teràpia Miofuncional



Psicologia Judicial i Forense ·
Evaluacions pericials

Nutrició i dietètica · Alimentació infantil



Raval de Sant Pere 43 -45, Reus

Telf. 623 00 66 67

info@espaciopsicofamiliar.es

www.espaciopsicofamiliar.es